

ОБЯЗАТЕЛЬНО ПРОЧИТАЙТЕ УСЛОВИЯ ЛИЦЕНЗИИ



Распространяется на правах Attribution-NonCommercial-NoDerivs 3.0 Unported (Атрибуция — Некоммерческое использование — Без производных произведений) лицензии.

Вы можете свободно:

делиться — копировать, распространять и передавать другим лицам данное произведение.

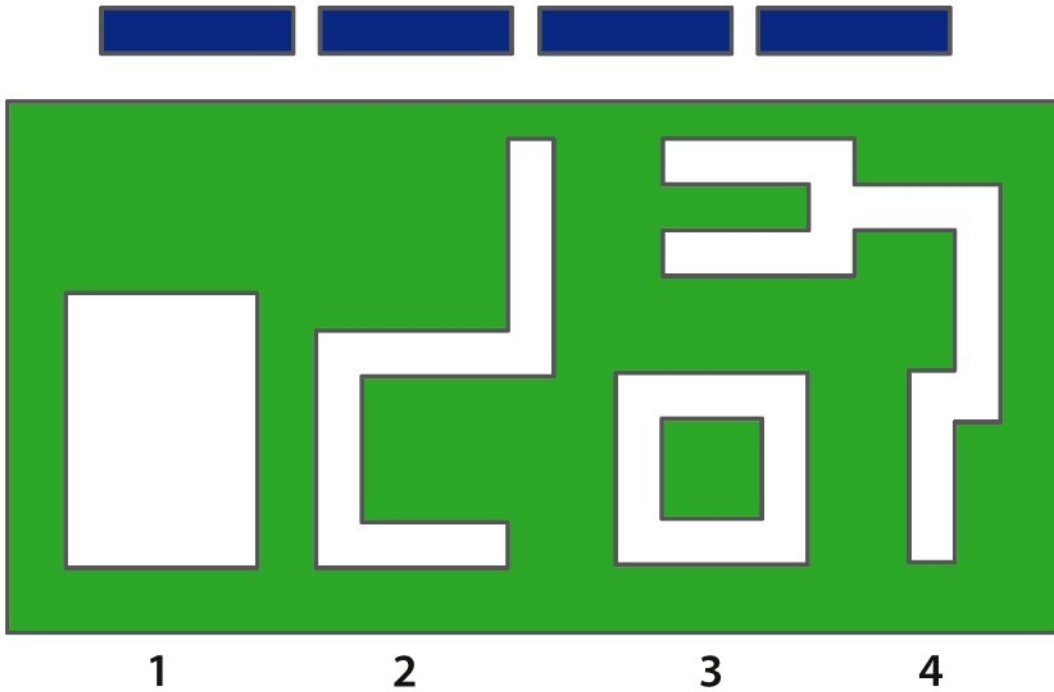
При соблюдении следующих условий:

- указание автора — Пономаренко Анна Сергеевна;
- при распространении через Интернет обязательно наличие активной ссылки на сайт <http://games-for-kids.ru>, в других случаях любое иное хорошо видимое указание URL <http://games-for-kids.ru>;
- Вы не можете использовать данное произведение в коммерческих целях.
- Вы не можете изменять, преобразовывать или брать за основу это произведение.

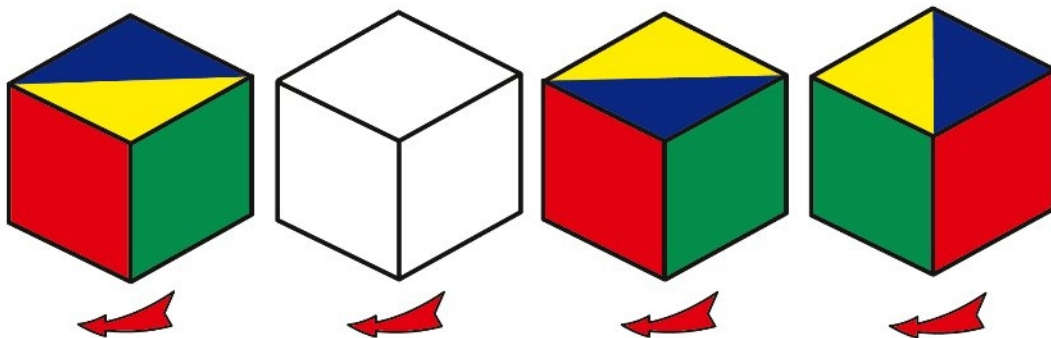
Подробнее о лицензии читайте здесь -
<http://creativecommons.org/licenses/by-nc-nd/3.0/deed.ru>

Задания 1, 2

Урок 24



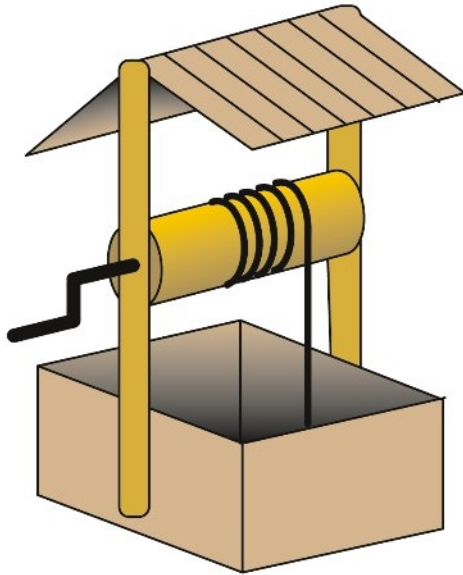
На рисунке изображены составные части одной из нижних пронумерованных фигур. Найди эту фигуру. Фрагменты не должны накладываться друг на друга, в тоже время они должны заполнять фигуру целиком.




Рассмотри внимательно четыре изображения одного и того же кубика, который вращают по часовой стрелке. Раскрась в нужные цвета черно-белое изображение кубика.

Урок 24

Задания 3, 4




1




2

Из какого колодца (1 или 2) быстрее поднять ведро воды, при условии, что глубина колодцев одинаковая?



1


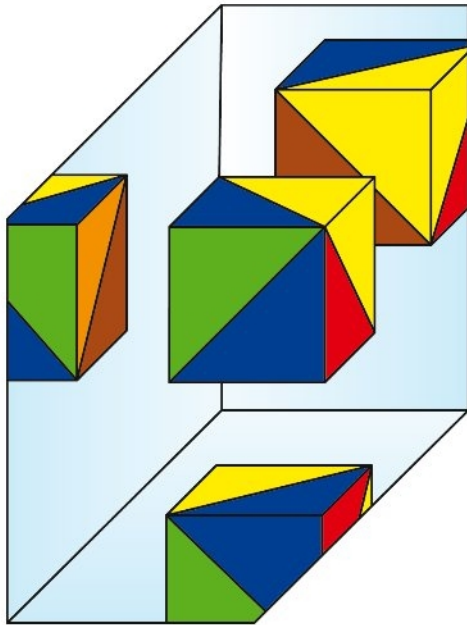


2

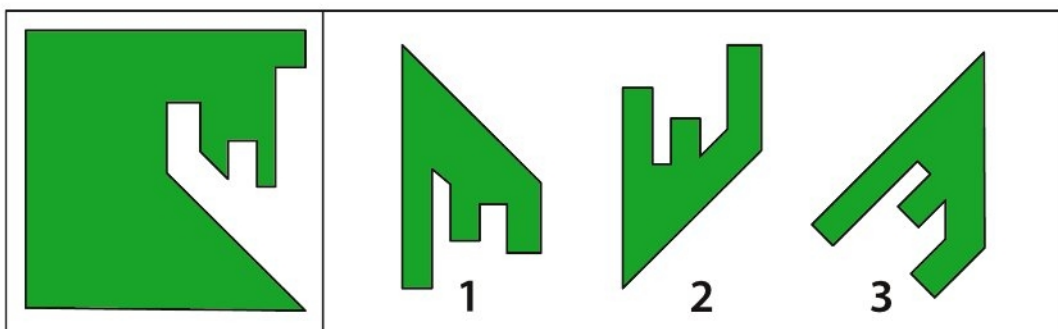
Какой кораблик художник нарисовал с ошибкой?

Задания 5, 6

Урок 24



Раскрась полностью развертку кубика, ориентируясь на его изображение слева.



Найди недостающую часть квадрата. Объясни, почему не подходят две другие части.