

# ОБЯЗАТЕЛЬНО ПРОЧИТАЙТЕ УСЛОВИЯ ЛИЦЕНЗИИ



Распространяется на правах Attribution-NonCommercial-NoDerivs 3.0 Unported (Атрибуция — Некоммерческое использование — Без производных произведений) лицензии.

## **Вы можете свободно:**

делиться — копировать, распространять и передавать другим лицам данное произведение.

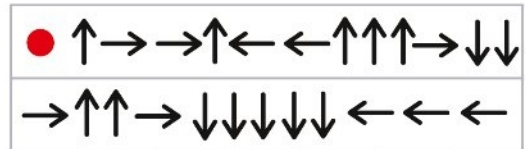
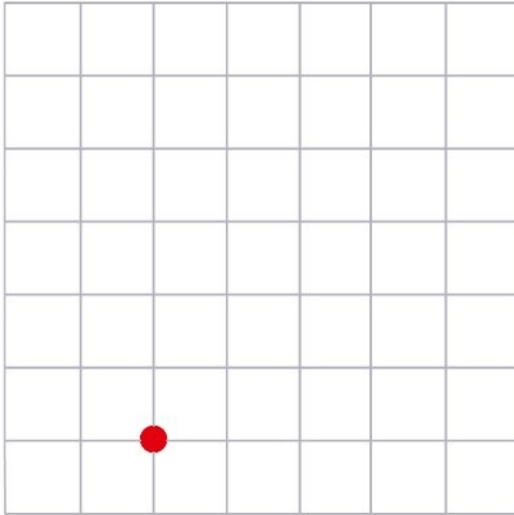
## **При соблюдении следующих условий:**

- указание автора — Пономаренко Анна Сергеевна;
- при распространении через Интернет обязательно наличие активной ссылки на сайт <http://games-for-kids.ru>, в других случаях любое иное хорошо видимое указание URL <http://games-for-kids.ru>;
- Вы не можете использовать данное произведение в коммерческих целях.
- Вы не можете изменять, преобразовывать или брать за основу это произведение.

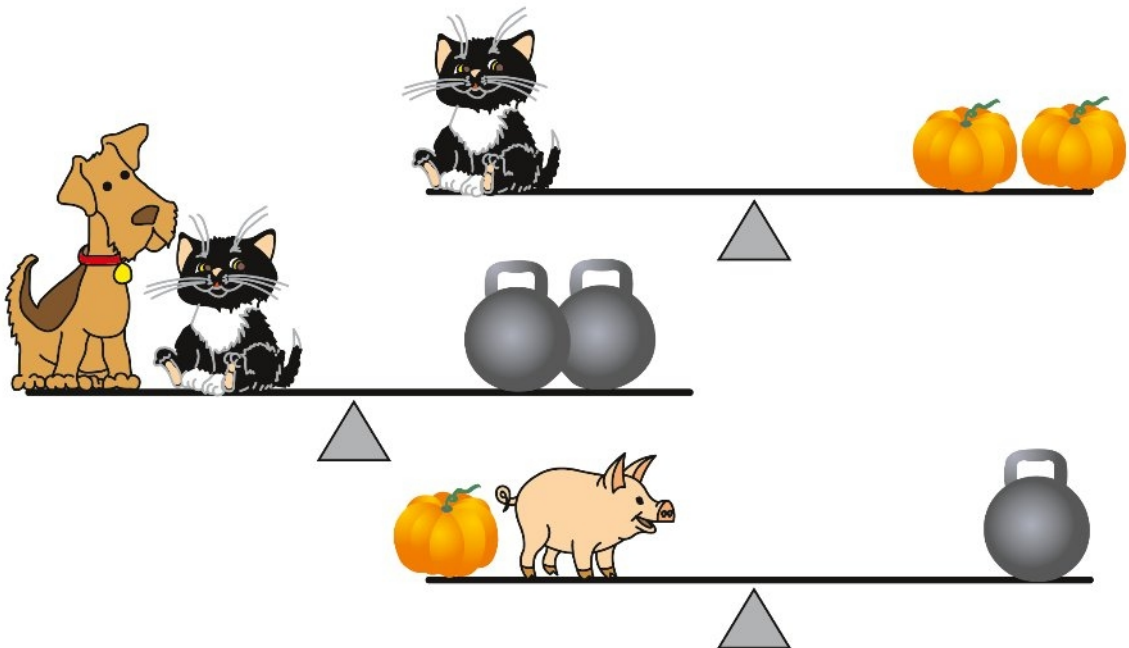
Подробнее о лицензии читайте здесь -  
<http://creativecommons.org/licenses/by-nc-nd/3.0/deed.ru>

## Урок 23

## Задания 1, 2



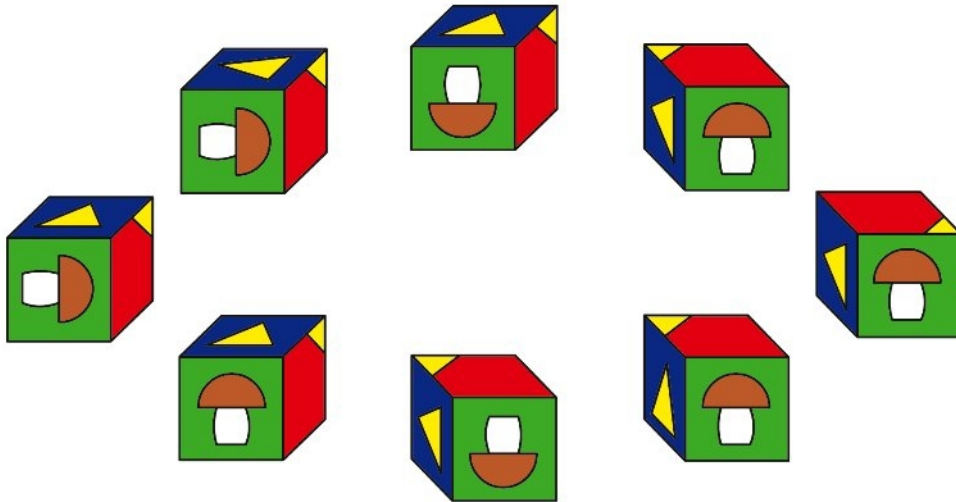
Нарисуй по клеточкам узор, ориентируясь на подсказку в виде последовательности стрелок. Стрелки показывают направление движения. Начинать рисовать узор нужно от красной точки.



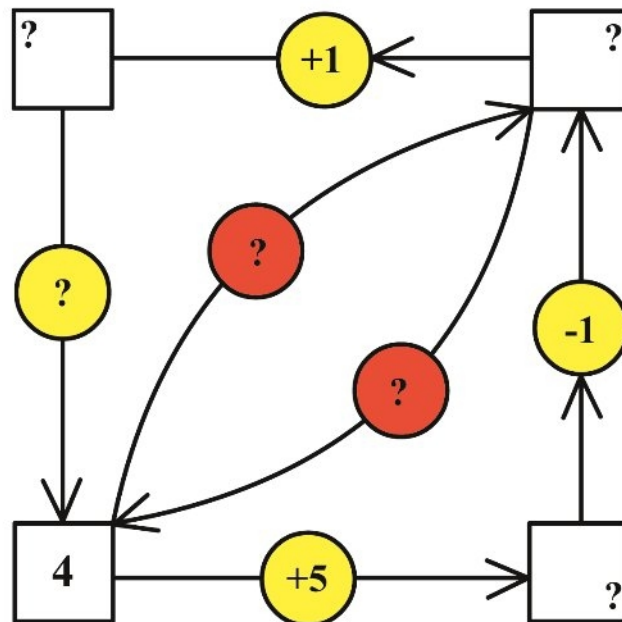
Сколько весит собака в пересчете на поросят?

### Задания 3, 4

### Урок 23



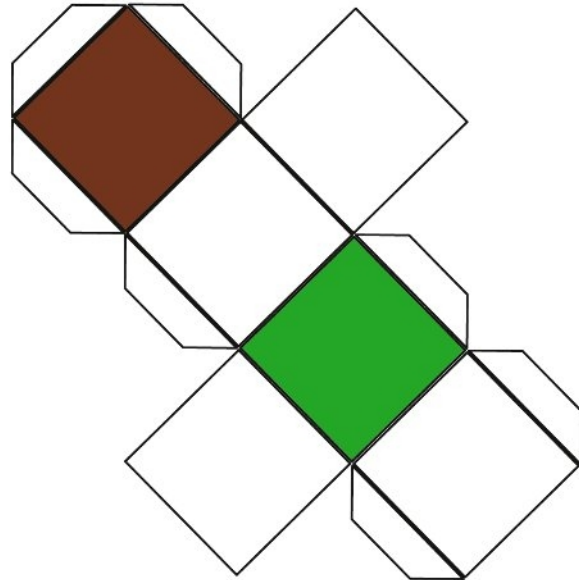
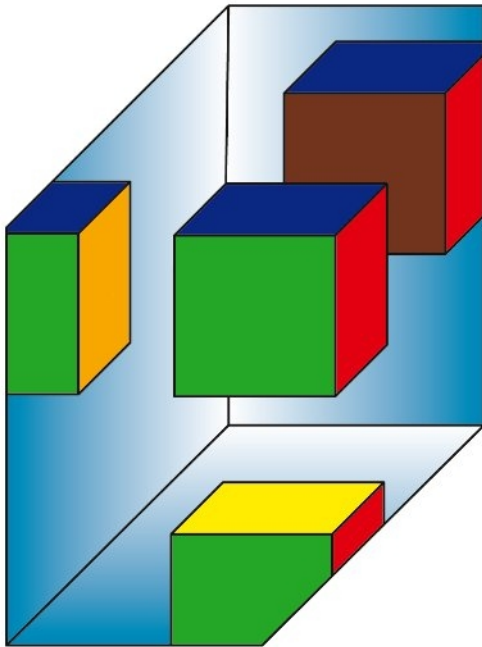
Найди два полностью одинаковых кубика. По условию три невидимые стороны у всех восьми кубиков одинаковые.




Заполни отмеченные вопросительным знаком ячейки схемы. В квадраты впиши числа, в круги – операции на сложение или вычитание определенных чисел.

## Урок 23

## Задания 5, 6



Раскрась полностью развертку кубика, ориентируясь на его изображение слева.



Объясни, на основании какого признака любая ракета в ряду может быть лишней.