

# ОБЯЗАТЕЛЬНО ПРОЧИТАЙТЕ УСЛОВИЯ ЛИЦЕНЗИИ



Распространяется на правах Attribution-NonCommercial-NoDerivs 3.0 Unported (Атрибуция — Некоммерческое использование — Без производных произведений) лицензии.

## **Вы можете свободно:**

делиться — копировать, распространять и передавать другим лицам данное произведение.

## **При соблюдении следующих условий:**

- указание автора — Пономаренко Анна Сергеевна;
- при распространении через Интернет обязательно наличие активной ссылки на сайт <http://games-for-kids.ru>, в других случаях любое иное хорошо видимое указание URL <http://games-for-kids.ru>;
- Вы не можете использовать данное произведение в коммерческих целях.
- Вы не можете изменять, преобразовывать или брать за основу это произведение.

Подробнее о лицензии читайте здесь -  
<http://creativecommons.org/licenses/by-nc-nd/3.0/deed.ru>

## Урок 15

## Задания 1, 2

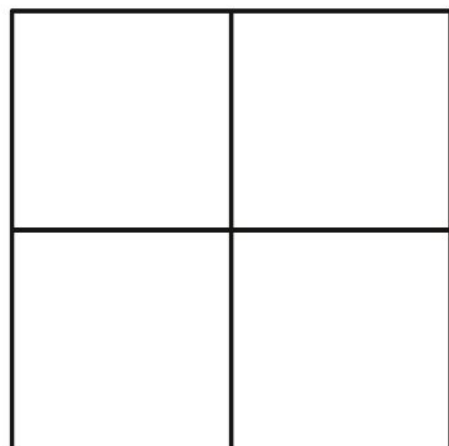
$$\text{pear} + 1 = 3$$

$$\text{lemon} + 3 = 7$$

$$\text{apple} = ?$$

$$\text{apple} - \text{pear} = \text{lemon}$$

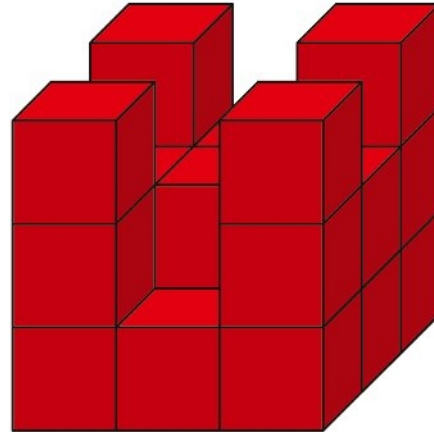
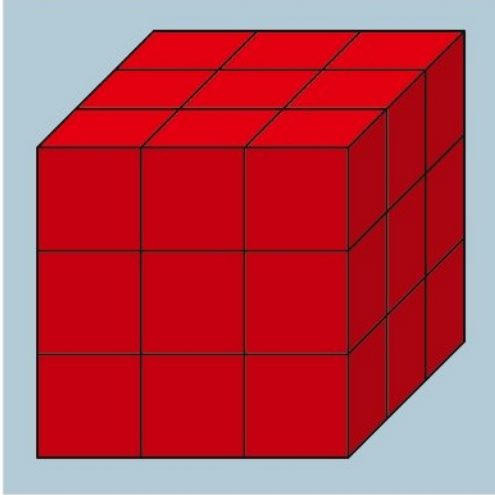
Реши задачку: найди число, соответствующее яблоку. При решении задачи учитывай заданные условия.











Скопируй по клеточкам изображенный слева рисунок-образец в правый пустой квадрат.

## Задания 3, 4

## Урок 15



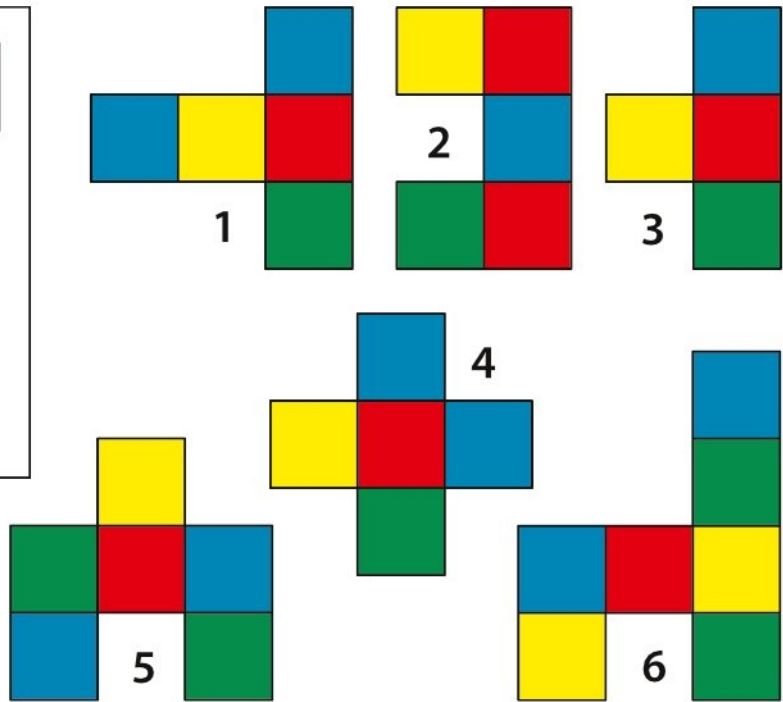
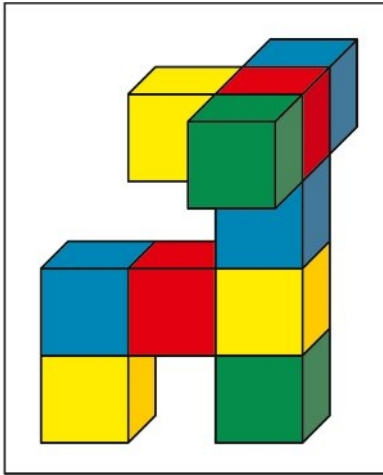
Рассмотри куб-образец на голубом фоне. Сосчитай, сколько надо добавить кубиков в правую постройку, чтобы из нее получился точно такой же куб.

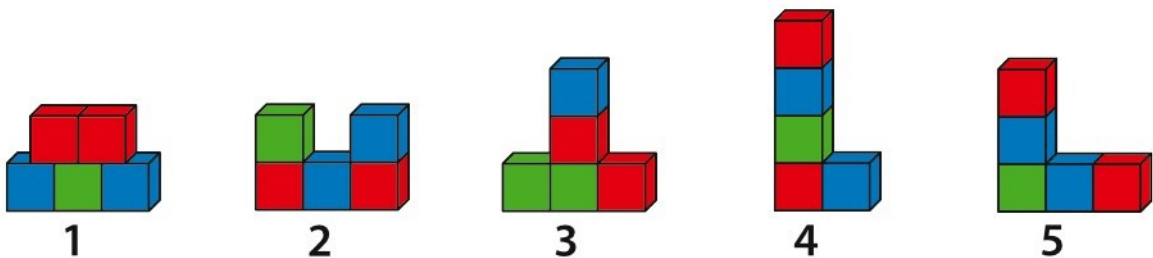
Определи принцип, в соответствии с которым в таблице расположены человечки и дорисуй недостающего человечка в пустой ячейке.

## Урок 15

## Задания 5, 6



Какой вид сверху будет иметь фигура, изображенная в рамке? Выбери правильный вариант из шести предложенных.



Найди лишнюю картинку и объясни, почему именно она лишняя.