

ОБЯЗАТЕЛЬНО ПРОЧИТАЙТЕ УСЛОВИЯ ЛИЦЕНЗИИ



Распространяется на правах Attribution-NonCommercial-NoDerivs 3.0 Unported (Атрибуция — Некоммерческое использование — Без производных произведений) лицензии.

Вы можете свободно:

делиться — копировать, распространять и передавать другим лицам данное произведение.

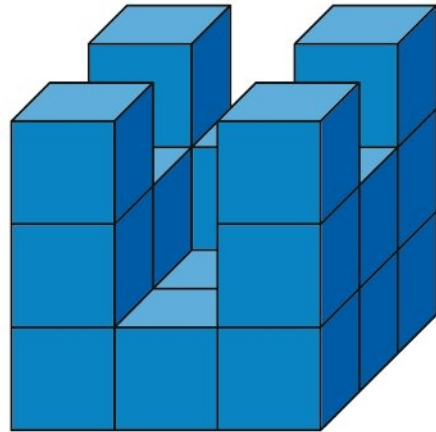
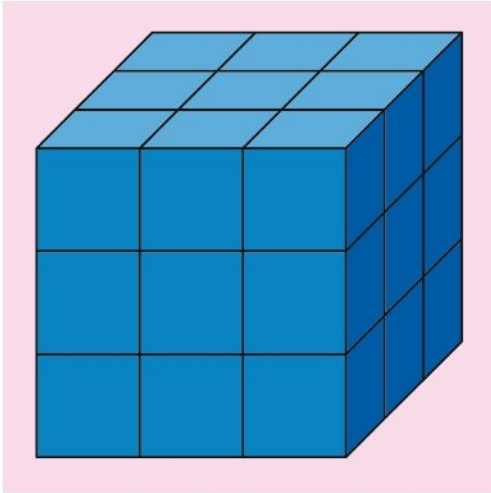
При соблюдении следующих условий:

- указание автора — Пономаренко Анна Сергеевна;
- при распространении через Интернет обязательно наличие активной ссылки на сайт <http://games-for-kids.ru>, в других случаях любое иное хорошо видимое указание URL <http://games-for-kids.ru>;
- Вы не можете использовать данное произведение в коммерческих целях.
- Вы не можете изменять, преобразовывать или брать за основу это произведение.





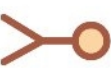







Подробнее о лицензии читайте здесь -
<http://creativecommons.org/licenses/by-nc-nd/3.0/deed.ru>

Задания 1, 2

Урок 12



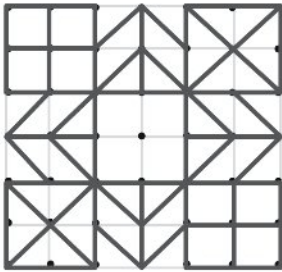
Рассмотри куб-образец на розовом фоне. Сосчитай, сколько надо добавить кубиков в правую постройку, чтобы из нее получился точно такой же куб.

1					4
2					5
3					6

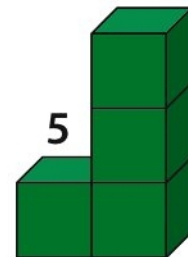
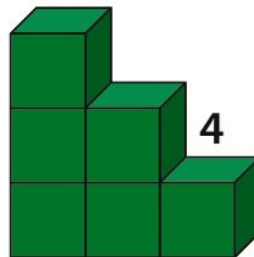
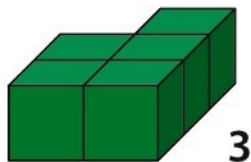
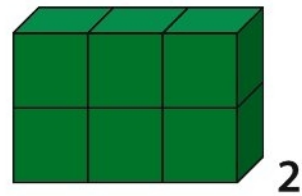
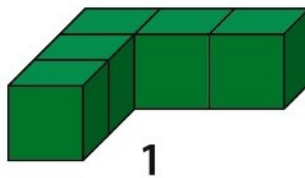
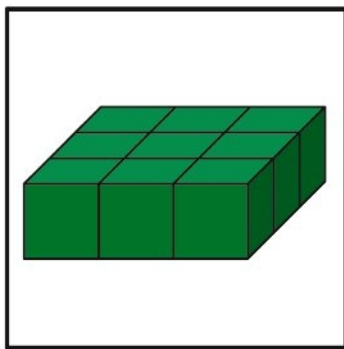

Внимательно рассмотри таблицу и определи принцип, в соответствии с которым в ней расположены человечки. Выбери подходящего человечка из шести предложенных, чтобы заполнить пустую ячейку таблицы.

Урок 12

Задания 3, 4



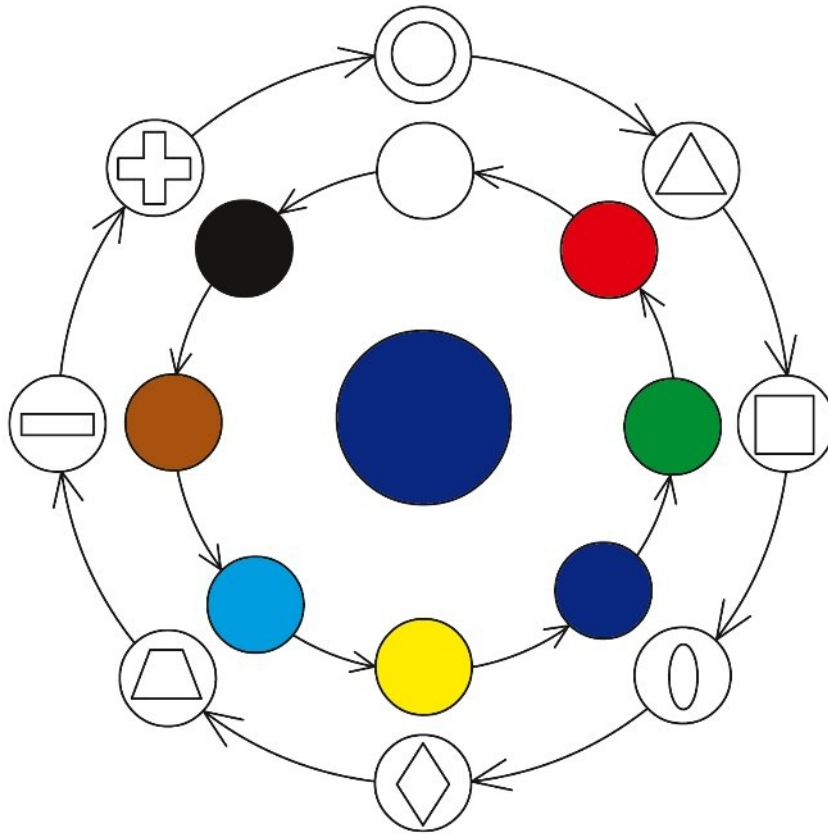
Скопируй по точкам картинку, помещенную в качестве образца в верхнем левом углу задания.











Найди среди предложенных на выбор пяти фигур две такие, из которых можно составить фигуру-образец в рамке.

Задания 5, 6

Урок 12



Нарисуй справа от картинки фигуру, из которой получился синий круг за четыре этапа превращений?

							
				1	2	3	4

Рассмотри рисунок. Какая из четырех фигур, стоящих справа в ряду, должна быть на месте вопроса? Она должна относиться к третьей фигуре так же, как вторая фигура относится к первой. Изменение двух первых фигур в ряду показывает, какой должна быть четвертая, отсутствующая в ряду фигура, которую нужно найти среди набора фигур, представленных в ряду справа.