

ОБЯЗАТЕЛЬНО ПРОЧИТАЙТЕ УСЛОВИЯ ЛИЦЕНЗИИ



Распространяется на правах Attribution-NonCommercial-NoDerivs 3.0 Unported (Атрибуция — Некоммерческое использование — Без производных произведений) лицензии.

Вы можете свободно:

делиться — копировать, распространять и передавать другим лицам данное произведение.


При соблюдении следующих условий:

- указание автора — Пономаренко Анна Сергеевна;
- при распространении через Интернет обязательно наличие активной ссылки на сайт <http://games-for-kids.ru>, в других случаях любое иное хорошо видимое указание URL <http://games-for-kids.ru>;
- Вы не можете использовать данное произведение в коммерческих целях.
- Вы не можете изменять, преобразовывать или брать за основу это произведение.

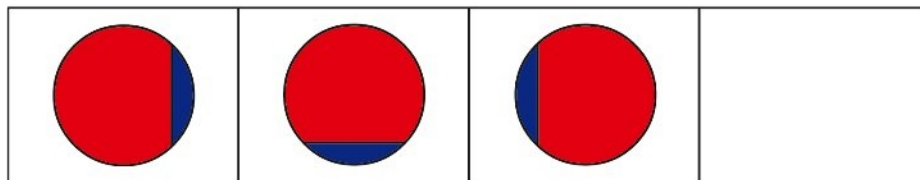
Подробнее о лицензии читайте здесь -
<http://creativecommons.org/licenses/by-nc-nd/3.0/deed.ru>

Урок 15

Задания 1, 2



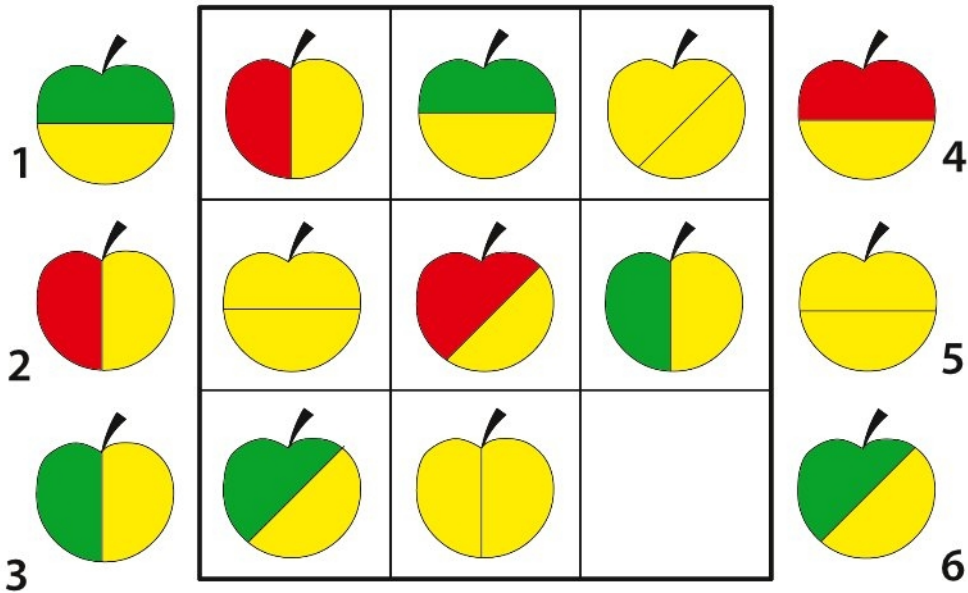
Проведи карандашом линии по каждому из маршрутов, стараясь не задевать "стенок". Упражнение также включает в себя рисование по пунктирной линии.



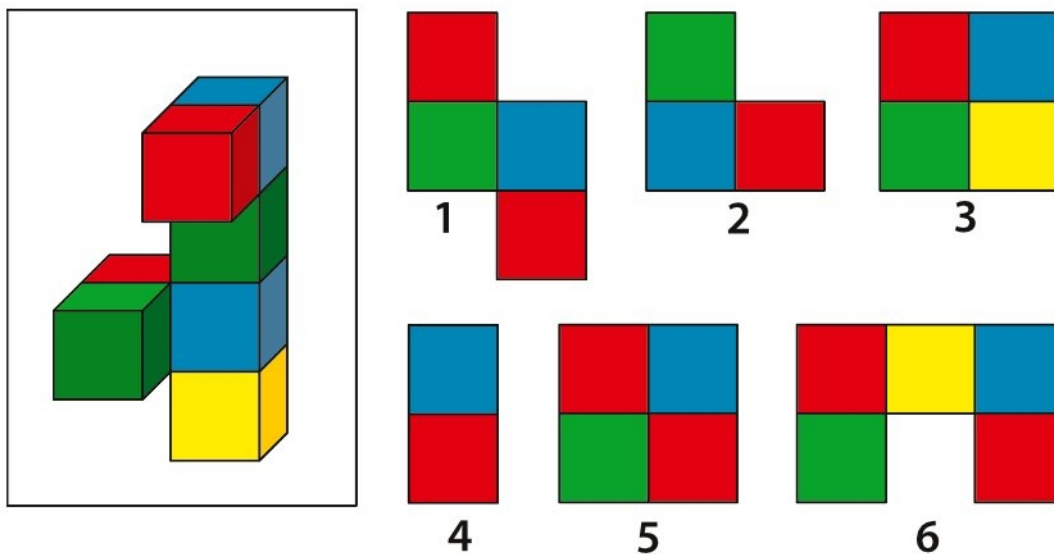
Определи логическую закономерность в изменении трех фигур, после чего дорисуй четвертую фигуру в пустой ячейке.

Задания 3, 4

Урок 15





Внимательно рассмотри таблицу и определи принцип, в соответствии с которым в ней расположены яблоки. Выбери подходящее яблочко из шести предложенных, чтобы заполнить пустую ячейку таблицы.



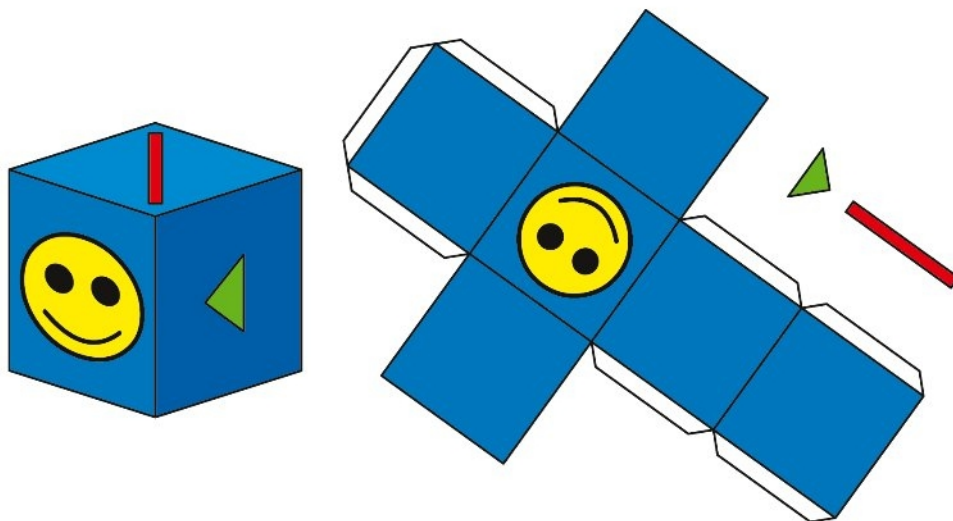
Какой вид сверху будет иметь фигура, изображенная в рамке? Выбери правильный вариант из шести предложенных.

Урок 15

Задания 5, 6



Скопируй по точкам картинку, помещенную в качестве образца в верхнем левом углу задания.



Ориентируясь на кубик, наклейте на развертку треугольник и полоску. Проверьте правильность своего решения, вырезав развертку и сложив из нее кубик.