

ОБЯЗАТЕЛЬНО ПРОЧИТАЙТЕ УСЛОВИЯ ЛИЦЕНЗИИ



Распространяется на правах Attribution-NonCommercial-NoDerivs 3.0 Unported (Атрибуция — Некоммерческое использование — Без производных произведений) лицензии.

Вы можете свободно:

делиться — копировать, распространять и передавать другим лицам данное произведение.


При соблюдении следующих условий:

- указание автора — Пономаренко Анна Сергеевна;
- при распространении через Интернет обязательно наличие активной ссылки на сайт <http://games-for-kids.ru>, в других случаях любое иное хорошо видимое указание URL <http://games-for-kids.ru>;
- Вы не можете использовать данное произведение в коммерческих целях.
- Вы не можете изменять, преобразовывать или брать за основу это произведение.


Подробнее о лицензии читайте здесь -
<http://creativecommons.org/licenses/by-nc-nd/3.0/deed.ru>

Урок 11

Задания 1, 2



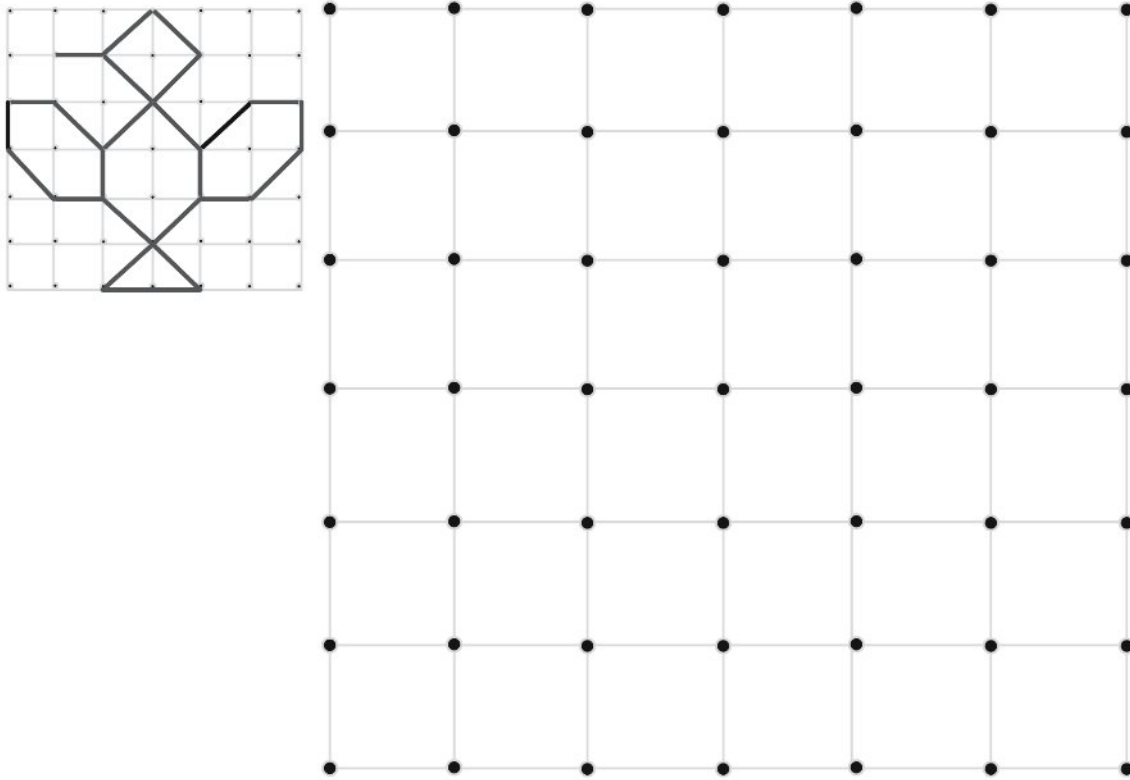
Найди и раскрась все кружочки в красный цвет, квадратики - в синий. Ищи нужные фигуры последовательно, ряд за рядом, сверху вниз, слева направо.



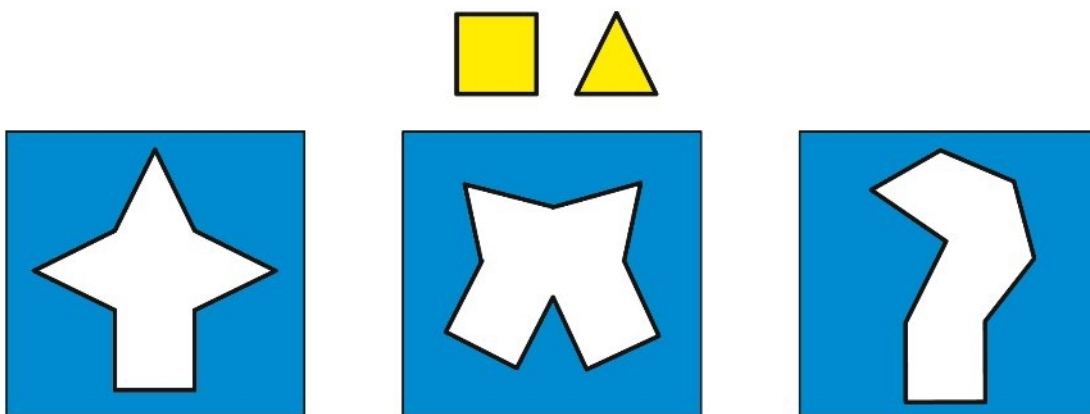
Объясни, по какому признаку любая фигура в ряду может быть лишней.

Задания 3, 4

Урок 11



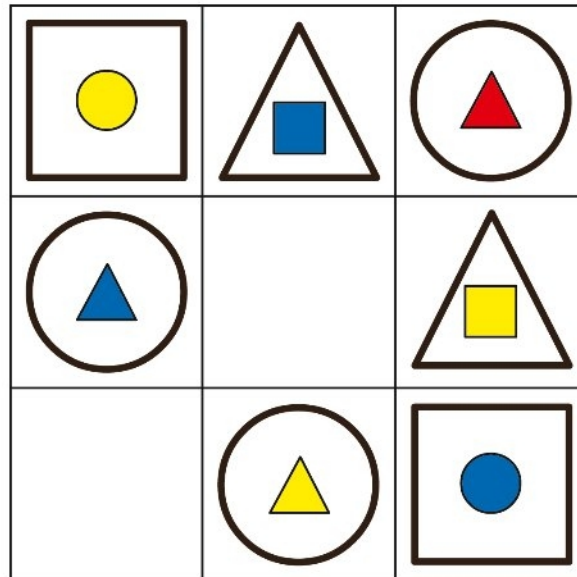
Скопируй по точкам картинку, помещенную в качестве образца в верхнем левом углу задания.



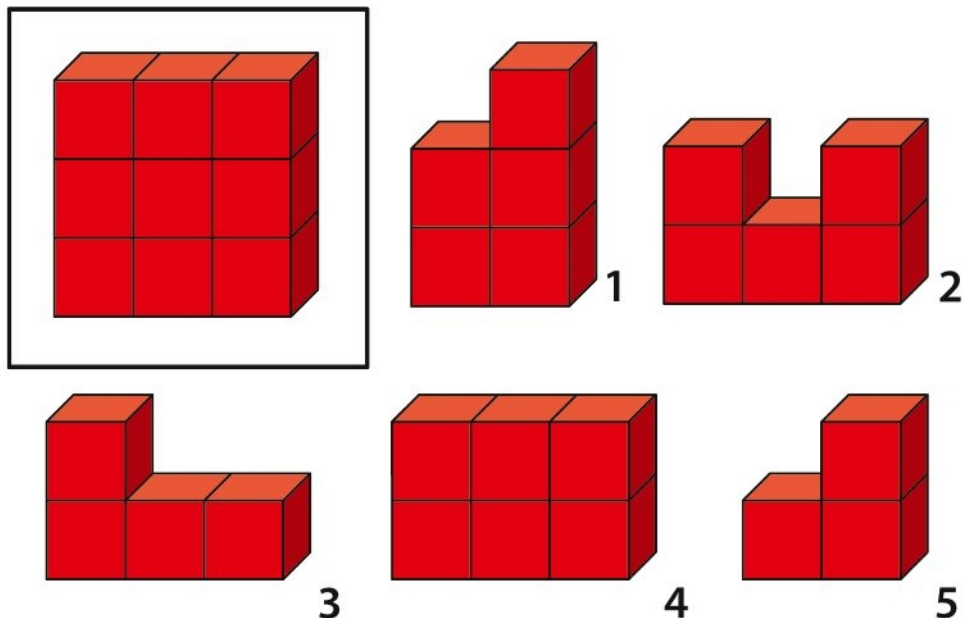
На рисунке к заданию изображены в рамках три сложные геометрические фигуры. Раздели их на квадратики и треугольники, точно такие же, как вверху рисунка.

Урок 11

Задания 5, 6



Внимательно рассмотри таблицу и определи принцип, в соответствии с которым в ней расположены фигуры. После этого дорисуй недостающие фигуры в пустых ячейках таблицы.



Найди среди предложенных на выбор пяти фигур две такие, из которых можно составить фигуру-образец в рамке.