

ОБЯЗАТЕЛЬНО ПРОЧИТАЙТЕ УСЛОВИЯ ЛИЦЕНЗИИ



Распространяется на правах Attribution-NonCommercial-NoDerivs 3.0 Unported (Атрибуция — Некоммерческое использование — Без производных произведений) лицензии.

Вы можете свободно:

делиться — копировать, распространять и передавать другим лицам данное произведение.

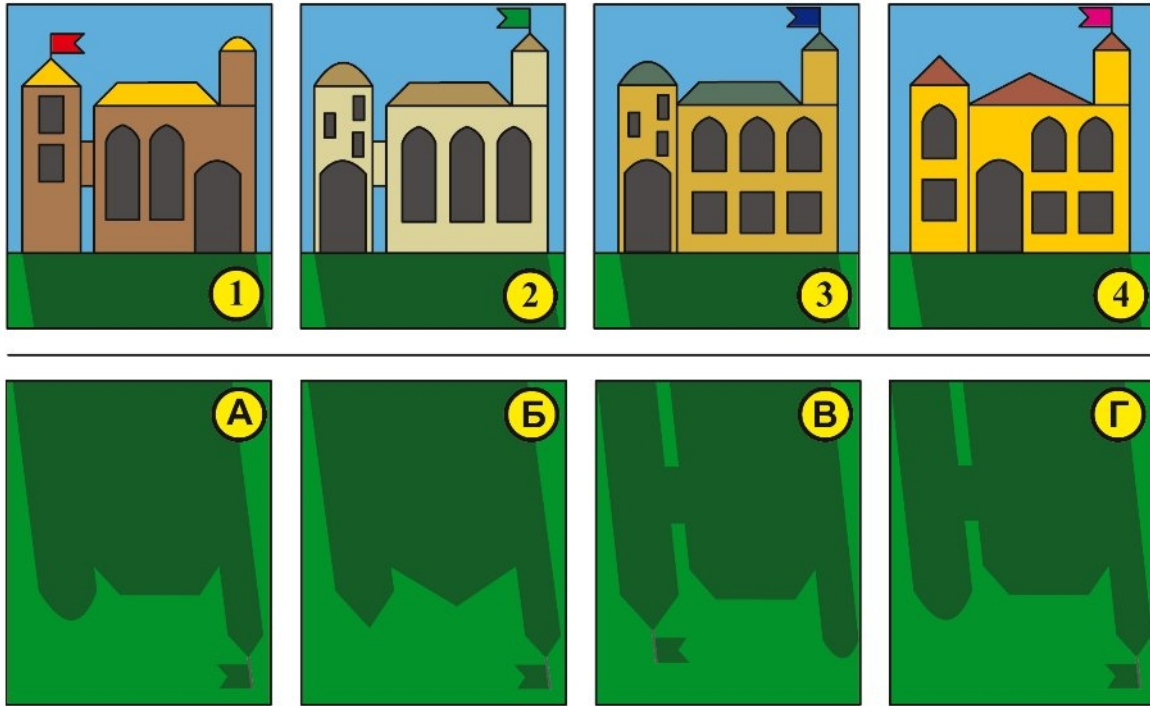
При соблюдении следующих условий:

- указание автора — Пономаренко Анна Сергеевна;
- при распространении через Интернет обязательно наличие активной ссылки на сайт <http://games-for-kids.ru>, в других случаях любое иное хорошо видимое указание URL <http://games-for-kids.ru>;
- Вы не можете использовать данное произведение в коммерческих целях.
- Вы не можете изменять, преобразовывать или брать за основу это произведение.









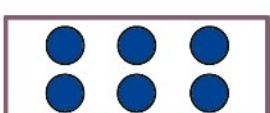

Подробнее о лицензии читайте здесь -
<http://creativecommons.org/licenses/by-nc-nd/3.0/deed.ru>

Задания 1, 2

Урок 10



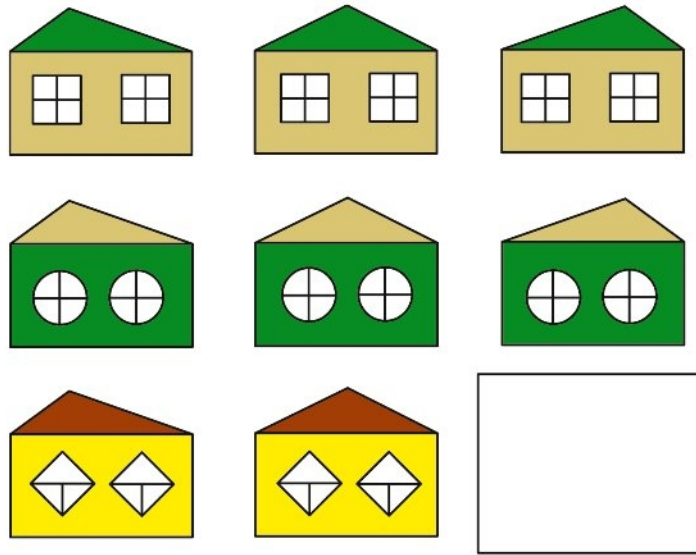
Найди для каждого здания его тень.

	Увеличь количество на 1	
	Замени  на 	
	Замени букву Д на К	
	Уменьши количество на 2	

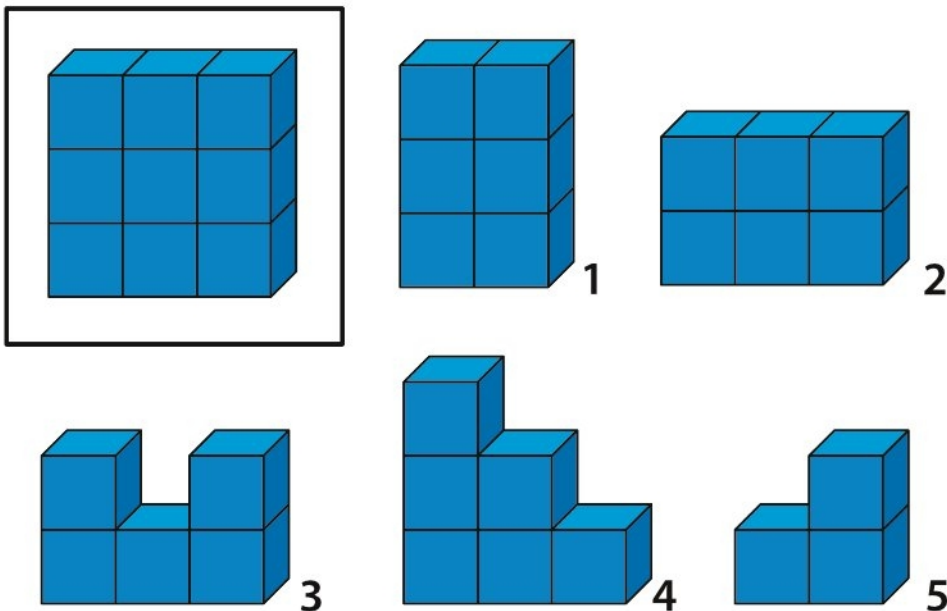
Выполни указанные действия и нарисуй результат в пустых рамках.

Урок 10

Задания 3, 4



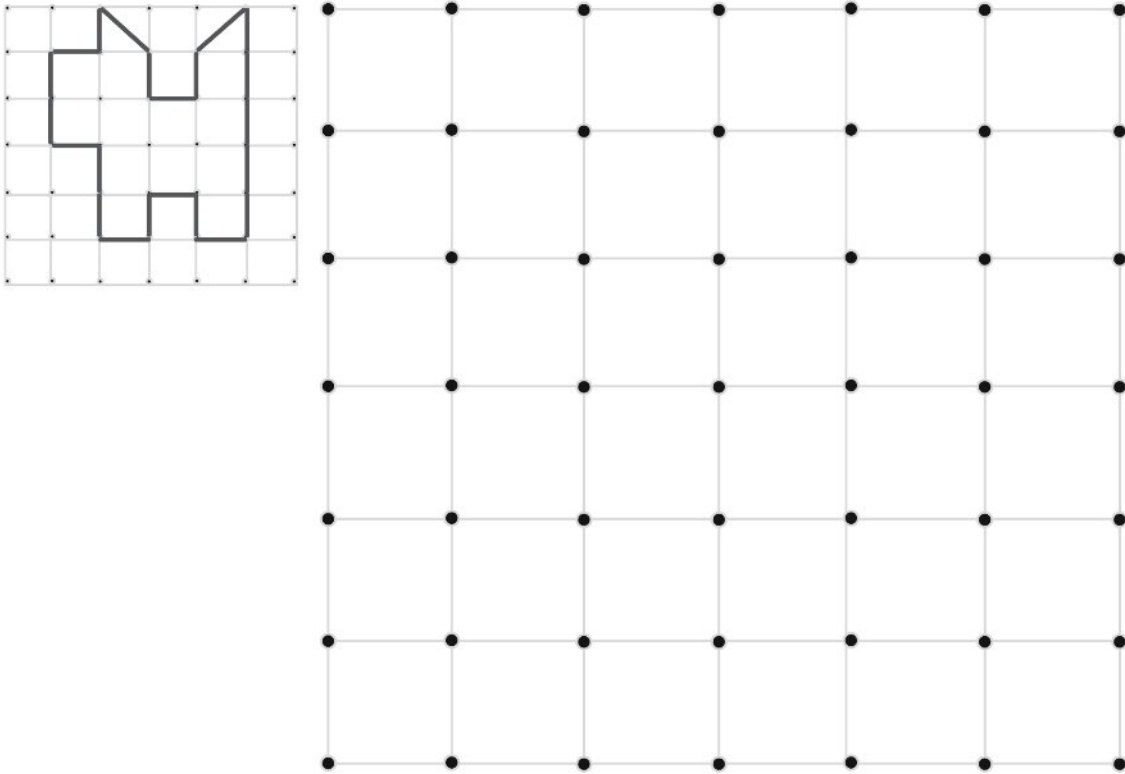
Внимательно рассмотри таблицу и определи принцип, в соответствии с которым в ней расположены домики. После этого дорисуй недостающий домик в пустой ячейке.




Найди среди предложенных на выбор пяти фигур две такие, из которых можно составить фигуру-образец в рамке.

Задания 5, 6

Урок 10



Скопируй по точкам картинку, помещенную в качестве образца в верхнем левом углу задания.



На рисунке к заданию изображены в рамках три сложные геометрические фигуры. Раздели их на квадратики и треугольники, точно такие же, как вверху рисунка.