

ОБЯЗАТЕЛЬНО ПРОЧИТАЙТЕ УСЛОВИЯ ЛИЦЕНЗИИ



Распространяется на правах Attribution-NonCommercial-NoDerivs 3.0 Unported (Атрибуция — Некоммерческое использование — Без производных произведений) лицензии.

Вы можете свободно:

делиться — копировать, распространять и передавать другим лицам данное произведение.


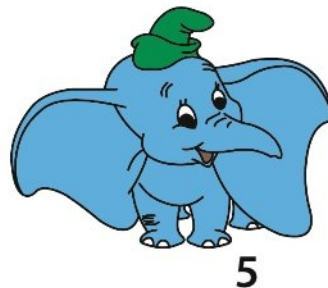
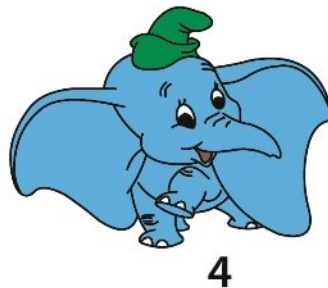
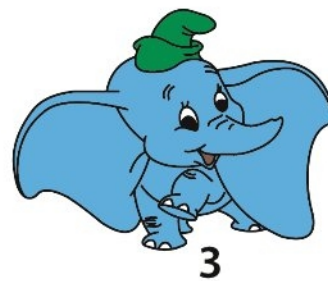
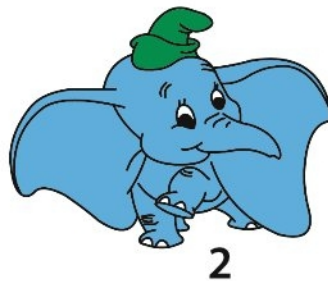
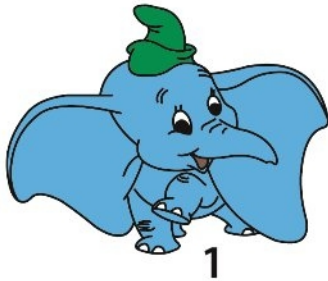
При соблюдении следующих условий:

- указание автора — Пономаренко Анна Сергеевна;
- при распространении через Интернет обязательно наличие активной ссылки на сайт <http://games-for-kids.ru>, в других случаях любое иное хорошо видимое указание URL <http://games-for-kids.ru>;
- Вы не можете использовать данное произведение в коммерческих целях.
- Вы не можете изменять, преобразовывать или брать за основу это произведение.


Подробнее о лицензии читайте здесь -
<http://creativecommons.org/licenses/by-nc-nd/3.0/deed.ru>

Задания 1, 2

Урок 8



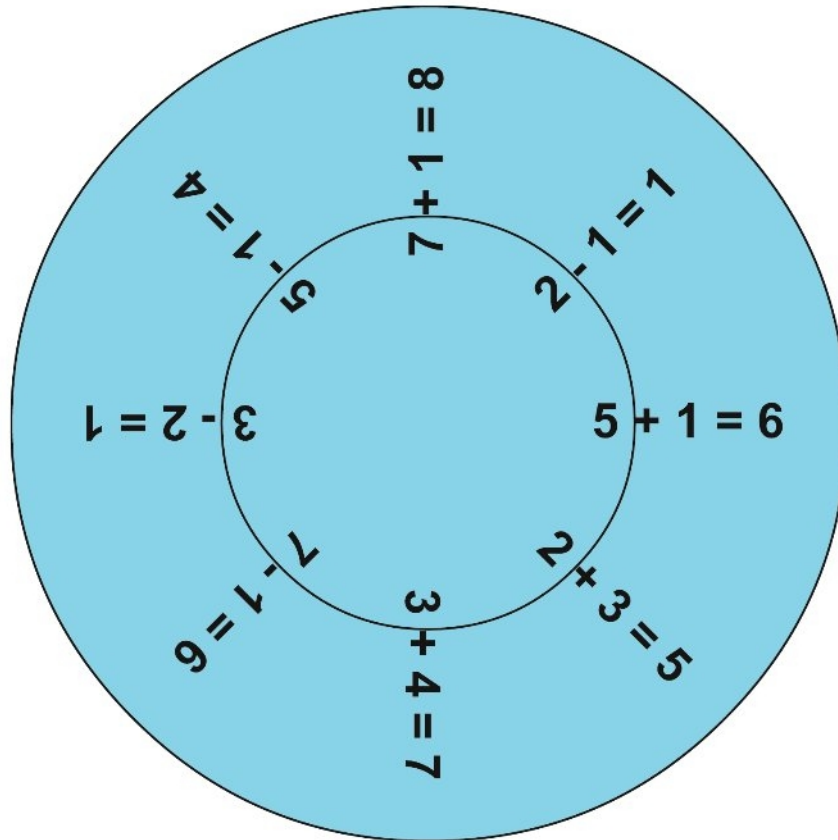
Найди два полностью одинаковых рисунка из шести предложенных на выбор.



Из четырех нижних фигурных рамок выбери ту, в которую можно уложить три синих квадратика так, чтобы не осталось пустого места внутри рамки.

Урок 8

Задания 3, 4



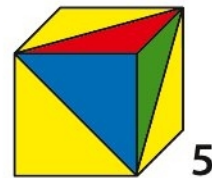
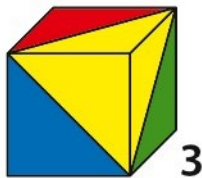
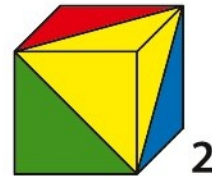
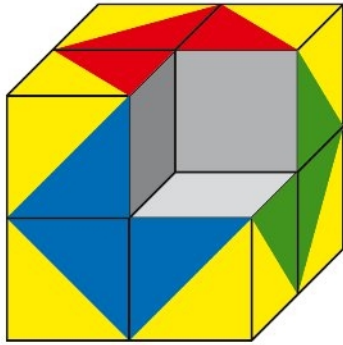
Попроси взрослого вырезать изображенное на картинке "математическое колесо" и разрезать его таким образом, чтобы получились внутренний круг и внешнее кольцо. Соедини получившиеся части так, чтобы все примеры были решены правильно.



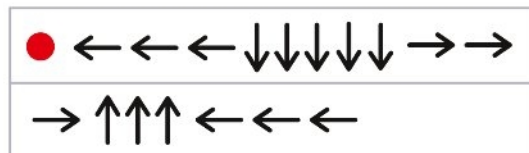
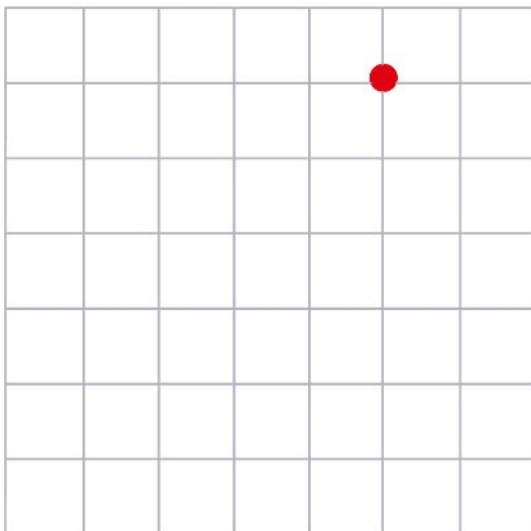
Найди лишнюю картинку и объясни, чем она отличается от других.

Задания 5, 6

Урок 8



Как ты думаешь, какой из пяти маленьких кубиков был вырезан из большого куба? Обоснуй свой ответ.



Нарисуй по клеточкам узор, ориентируясь на подсказку в виде последовательности стрелок. Стрелки показывают направление движения.